



## EXAMEN DE APTITUD PARA LA OBTENCIÓN DE LA LICENCIA DE CAZA EN LA REGIÓN DE MURCIA (S arco)

Fecha: 11/9/2019

**EJERCICIO PRÁCTICO:** La evaluación de la parte práctica consta de un examen tipo test de 30 preguntas con cuatro respuestas alternativas en las que solo una es la verdadera, y teniendo en cuenta que por cada tres preguntas mal se descuenta 1 bien. Se dispondrá de un máximo de 60 minutos.

1.- ¿Cuál es la siguiente especie cinegética? (señalar la correcta):



- a) Corneja
- b) Arrendajo
- c) Urraca
- d) Grajilla

2.- La siguiente imagen corresponde a (señalar la correcta):



- a) Especie no cinegética: cernícalo primilla.
- b) Especie no cinegética: águila perdicera.
- c) Especie no cinegética: aguilucho cenizo.
- d) Especie cinegética: paloma torcaz

3.- Dentro de las especies amenazadas en la Región de Murcia, la siguiente imagen corresponde a (señalar la correcta):



- a) Alcaraván.
- b) Charrancito.
- c) Ganga ortega
- d) Sisón.

4.- Dentro de las especies cinegéticas de caza menor en la Región de Murcia, la siguiente imagen corresponde a (señalar la correcta):



- a) Paloma torcaz.
- b) Paloma bravía.
- c) Paloma zurita.
- d) Tórtola europea

5.- La siguiente especie es (señalar la correcta):



- a) Cinegética: grajilla
- b) No cinegética: arrendajo
- c) Cinegética: urraca
- d) No cinegética: carraca europea

6.- Dentro de las especies cinegéticas de caza mayor, la siguiente imagen corresponde a (señalar la correcta):



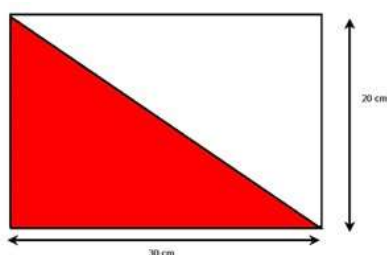
- a) Corzo
- b) Muflón
- c) Cabra montés
- d) Arrui

7.- Dentro del grupo de enfermedades que habría que comunicar, la siguiente imagen corresponde a (señalar la correcta):



- a) Triquinosis en arrui
- b) Tularemia en muflón
- c) Mixomatosis de la liebre
- d) NHV del conejo

8.- Dentro de las señales de segundo orden, la siguiente imagen corresponde a (señalar la correcta):



- a) Coto de caza menor
- b) Zona de reserva.
- c) Coto deportivo
- d) Zona de caza intensiva.

9.- Para el control ocasional de predadores se pueden emplear con autorización métodos de captura homologados, la siguiente imagen corresponde a (señalar la correcta):



- a) Lazo propulsado tipo Collarum.
- b) Caja selectiva para gato asilvestrado.
- c) Caja-trampa metálica para urracas.
- d) Wisconsin al paso.

10.- La caja trampa para la captura del zorro es (señalar la correcta):



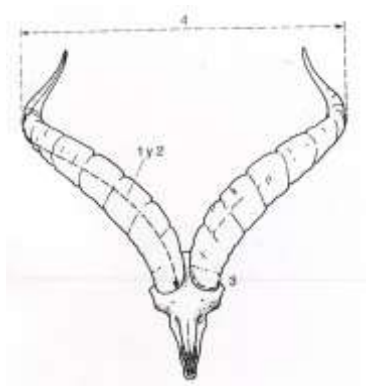
- a) Un método legal para la captura de carnívoros
- b) Un método legal pues se puede soltar si no es un zorro lo que ha caído
- c) Un método no homologado e ilegal
- d) Un método de control de predadores específico para el zorro

11.- Los cepos para la captura de zorros o perros asilvestrados según la Ley 7/2003 de Caza y Pesca Fluvial de la Región de Murcia, es (señalar la correcta):



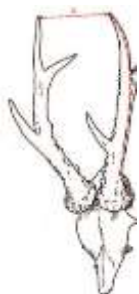
- a) Un método homologado y legal
- b) Un método legal de captura que se puede utilizar con autorización
- c) Un método prohibido
- d) Un método de control de predadores muy selectivo

12.- Las especies cinegéticas objeto de homologación pertenecen a la caza mayor, la siguiente imagen corresponde al trofeo de (señalar la correcta):



- a) Muflón.
- b) Corzo.
- c) Rebeco.
- d) Cabra montés.

13.- Las especies cinegéticas objeto de homologación pertenecen a la caza mayor, la siguiente imagen corresponde al trofeo de (señalar la correcta):



- a) Muflón.
- b) Corzo.
- c) Rebeco.
- d) Cabra montés.

14.- Indica qué raza de perro es el de la fotografía (señalar la correcta):



- a) Es un pointer
- b) Es un braco
- c) Es un setter
- d) Es un bretón

15.- La siguiente imagen corresponde a (señalar la correcta):



- a) Es un perro de rastro vivo.
- b) Es un perro de rastro de sangre.
- c) Es un perro de rastro de acoso y persecución.
- d) Es un perro de muestra

16.- Según el comportamiento ético del cazador y el correcto uso de las imágenes en las redes sociales (señalar la correcta):



- a) Es correcto presumir de los animales cazados
- b) No hay ningún problema ético por matar los animales y no aprovechar su carne
- c) Es correcto hacerse fotos con los animales abatidos y poner la pierna encima como muestra de superioridad.
- d) Siempre hay que tener respeto hacia los animales abatidos y se debe de aprovechar su carne.

17.- En la siguiente imagen aparece una especie cinegética según la Orden de 29 de abril de 2019, de la Consejería de Empleo, Universidades, Empresa y Medio Ambiente sobre periodos hábiles de caza para la temporada 2019/2020 en la Comunidad Autónoma de la Región de Murcia (señala la correcta):



- a) Paloma bravía.
- b) Tórtola europea
- c) Zorzal blanco
- d) No es especie cinegética

18.- Las redes se pueden utilizar según la Ley 7/2003 de Caza y Pesca Fluvial de la Región de Murcia (señalar la correcta):



- a) La utilización de las redes se puede hacer con la licencia G
- b) Las redes verticales, se pueden utilizar sin ninguna prohibición para la captura de perdices.
- c) Las redes verticales es un método de captura prohibido para la caza
- d) Es una actividad autorizada pues permite soltar las especies que no aprovechamos.

19.- La captura de pardillo común (*Carduelis cannabina*) en la Región de Murcia (señalar la correcta):



- a) Es una actividad legal
- b) Sólo se pueden capturar legalmente en los nidos mientras son pollos
- c) Sólo se autoriza su captura con visco
- d) Es una actividad no autorizada

20.- La caza de conejo con hurón en la Región de Murcia según la Ley 7/2003 de Caza y Pesca Fluvial de la Región de Murcia (señalar la correcta):



- a) Es una actividad prohibida si no se lleva un azor
- b) Es una actividad legal sin restricciones
- c) Se puede utilizar para evitar daños agrícolas, requiriendo autorización
- d) Es una actividad legal sin restricciones pero solo se pueden llevar 8 hurones

21.- El siguiente arco, es del tipo (señalar la correcta):



- a) Arco recto o longbows
- b) Flatbow
- c) Recurvado
- d) Shortbow

22.- La siguiente foto, hace referencia a (señala la correcta):



- a) Culatín
- b) Cuerdas y cables
- c) Plumas
- d) Inserto

23.- En la caza mayor se utilizan las siguientes puntas de flechas (señala la correcta):



- a) Arpones
- b) Puntas de cuchillas fijas
- c) Puntas de cuchillas mecánicas
- d) Puntas desmontables

24.- La modalidad de caza de aves con arcos tipo recurvado y long-bow y flechas con plumas "flu-flu", se denomina (señala la correcta):



- a) Aguardo
- b) Al acecho
- c) Caza a pieza avistada
- d) Al vuelo

25.- La siguiente escena de caza, se puede corresponder con (señala la correcta):



- a) Batida
- b) A pieza avistada
- c) Ojeo
- d) Al vuelo

26.- Las siguientes puntas, según la Orden de 29 de abril de 2019, de la Consejería de Empleo, Universidades, Empresa y Medio Ambiente sobre periodos hábiles de caza para la temporada 2019/2020, pueden utilizarse en (señala la correcta):



- a) Caza menor
- b) Caza mayor
- c) Caza de aves acuáticas
- d) Solo en cotos intensivos

**27.- La siguiente especie se puede cazar mediante arco y rececho según la Orden de 29 de abril de 2019, de la Consejería de Empleo, Universidades, Empresa y Medio Ambiente sobre periodos hábiles de caza para la temporada 2019/2020 (señala la correcta):**



- a) Durante todo el año
- b) Del 1 de mayo al 16 de febrero
- c) Del 8 de septiembre al 16 de febrero
- d) Está prohibida su caza

**28.- La siguiente especie se puede cazar mediante arco según la Orden de 29 de abril de 2019, de la Consejería de Empleo, Universidades, Empresa y Medio Ambiente sobre periodos hábiles de caza para la temporada 2019/2020 (señala la correcta):**



- a) Durante todo el año
- b) Del 1 de mayo al 16 de febrero
- c) Del 8 de septiembre al 16 de febrero
- d) Del 12 de octubre al 6 de enero

**29.- La siguiente especie se puede cazar mediante arco según la Orden de 29 de abril de 2019, de la Consejería de Empleo, Universidades, Empresa y Medio Ambiente sobre periodos hábiles de caza para la temporada 2019/2020 (señala la correcta):**



- a) Durante todo el año
- b) Del 1 de mayo al 16 de febrero
- c) Del 8 de septiembre al 16 de febrero
- d) Está prohibida su caza en la Región de Murcia

**30.- La ballesta es un arma (señalar la correcta):**



- a) Autorizada en la Región de Murcia
- b) No autorizada para la caza en la Unión Europea.
- c) Un arma autorizada con la licencia G
- d) Un arma autorizada y recomendable al no contaminar.