



EXAMEN DE APTITUD PARA LA OBTENCIÓN DE LA LICENCIA C1 DE CAZA EN LA REGIÓN DE MURCIA.

Fecha: 18/12/2024

EJERCICIO PRÁCTICO: La evaluación de la parte práctica consta de un examen tipo test de 30 preguntas con cuatro respuestas alternativas en las que solo una es la verdadera, y teniendo en cuenta que por cada tres preguntas mal se descuenta 1 bien. Se dispondrá de un máximo de 60 minutos.

1.- La siguiente imagen corresponde a (señalar la correcta):



- a) Especie no cinegética: corneja
- b) Especie no cinegética: arrendajo
- c) Especie cinegética: urraca
- d) Especie no cinegética: estornino

2.- La siguiente imagen corresponde a (señalar la correcta):



- a) Especie no cinegética: corneja
- b) Especie no cinegética: arrendajo
- c) Especie cinegética: urraca
- d) Especie no cinegética: grajilla

3.- La siguiente imagen corresponde a (señalar la correcta):



- a) Especie no cinegética: corneja
- b) Especie no cinegética: arrendajo
- c) Especie cinegética: urraca
- d) Especie no cinegética: grajilla



4.- Dentro de las especies cinegéticas de caza menor en la Región de Murcia, la siguiente imagen corresponde a (señalar la correcta):



- a) Paloma torcaz.
- b) Paloma bravía.
- c) Paloma zurita.
- d) Tórtola europea

5.- La siguiente especie es (señalar la correcta):



- a) Paloma torcaz.
- b) Paloma bravía.
- c) Tórtola turca
- d) Tórtola europea

6.- La siguiente especie es (señalar la correcta):



- a) Paloma torcaz.
- b) Paloma bravía.
- c) Tórtola turca
- d) Tórtola europea

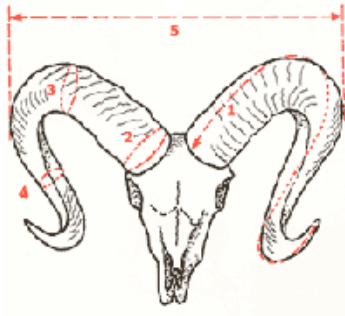
7.- Dentro de las especies amenazadas en la Región de Murcia, la siguiente imagen corresponde a (señalar la correcta):



- a) Alcaraván.
- b) Avutarda
- c) Ganga ortega
- d) Sisón.



8.- Las especies cinegéticas objeto de homologación pertenecen a la caza mayor, la siguiente imagen corresponde al trofeo de (señalar la correcta):



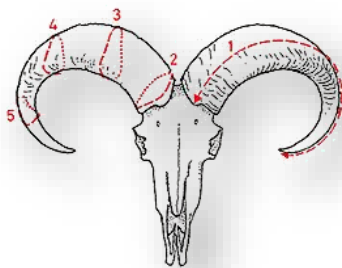
- a) Muflón.
- b) Corzo.
- c) Rebeco.
- d) Cabra montés.

9.- Las especies cinegéticas objeto de homologación pertenecen a la caza mayor, la siguiente imagen corresponde al trofeo de (señalar la correcta):



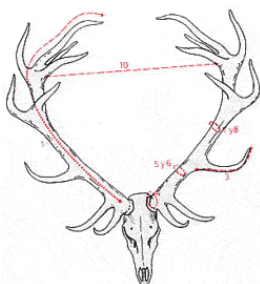
- a) Muflón.
- b) Corzo.
- c) Rebeco.
- d) Cabra montés.

10.- Las especies cinegéticas objeto de homologación pertenecen a la caza mayor, la siguiente imagen corresponde al trofeo de (señalar la correcta):



- a) Corzo
- b) Muflón
- c) Cabra montés
- d) Arrui

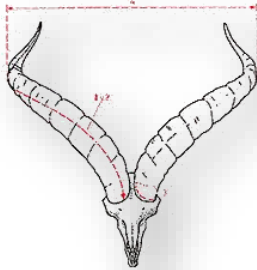
11.- Las especies cinegéticas objeto de homologación pertenecen a la caza mayor, la siguiente imagen corresponde al trofeo de (señalar la correcta):



- a) Muflón.
- b) Ciervo.
- c) Gamo.
- d) Cabra montés.



12.- Las especies cinegéticas objeto de homologación pertenecen a la caza mayor, la siguiente imagen corresponde al trofeo de (señalar la correcta):



- a) Corzo
- b) Muflón
- c) Cabra montés
- d) Arrui

13.- Dentro de las especies cinegéticas de caza mayor, la siguiente imagen corresponde a (señalar la correcta):



- a) Corzo
- b) Muflón
- c) Cabra montés
- d) Arrui

14.- Dentro de las especies cinegéticas de caza mayor, la siguiente imagen corresponde a (señalar la correcta):



- a) Corzo
- b) Gamo
- c) Venado
- d) Arruí

15.- Dentro de las especies cinegéticas de caza mayor, la siguiente imagen corresponde a (señalar la correcta):



- a) Corzo
- b) Muflón
- c) Cabra montés
- d) Arrui



16.- Dentro de las especies cinegéticas de caza mayor, la siguiente imagen corresponde a (señalar la correcta):



- a) Muflón.
- b) Corzo.
- c) Rebeco.
- d) Cabra montés.

17.- Dentro de las especies cinegéticas de caza mayor, la siguiente imagen corresponde a (señalar la correcta):



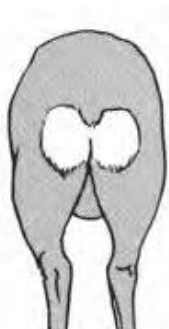
- a) Corzo
- b) Muflón
- c) Cabra montés
- d) Arrui

18.- Las especies cinegéticas objeto de homologación pertenecen a la caza mayor, la siguiente imagen corresponde al trofeo de (señalar la correcta):



- a) Muflón
- b) Corzo
- c) Rebeco
- d) Cabra montés.

19.- Dentro de las especies cinegéticas de caza mayor, la siguiente imagen corresponde al escudo anal del (señalar la correcta):



- a) Ciervo.
- b) Gamo.
- c) Corzo.
- d) Muflón.



20.- La siguiente imagen corresponde al Pointer (señalar la correcta):



- a) Es un perro de rastro vivo.
- b) Es un perro de rastro de sangre.
- c) Es un perro de rastro de acoso y persecución.
- d) Es un perro de muestra de raza británica.

21.- La siguiente imagen corresponde al Podenco Canario (señalar la correcta):



- a) Es un perro de rastro vivo.
- b) Es un perro de rastro de sangre.
- c) Es un perro de acoso y persecución.
- d) Es un perro de muestra de raza británica.

22.- En la siguiente imagen que raza de perro se corresponde (señala la correcta):



- a) Dogo argentino.
- b) Alano Español.
- c) Jack Russell Terrier
- d) Yorksite.

23.- Para el control ocasional de predadores se pueden emplear con autorización métodos de captura homologados, la siguiente imagen corresponde a (señalar la correcta):



- a) Lazo propulsado tipo Collarum.
- b) Caja selectiva para gato asilvestrado.
- c) Caja-trampa metálica para urracas.
- d) Wisconsin al paso.

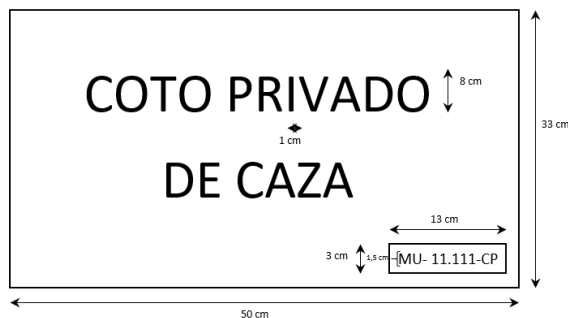


24.- Los cepos para la captura de zorros o perros asilvestrados según la Ley 7/2003 de Caza y Pesca Fluvial de la Región de Murcia, es (señalar la correcta):



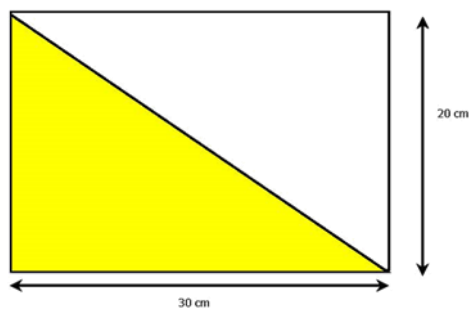
- a) Un método homologado y legal
- b) Un método prohibido
- c) Un método legal de captura que se puede utilizar con autorización
- d) Un método de control de predadores muy selectivo

25.- Esta señal correspondería a una señal de: (señalar la correcta):




- a) Señal de primer orden.
- b) Señal de segundo orden.
- c) Señal de tercer orden
- d) Señal de cuarto orden

26.- Dentro de las señales de segundo orden, la siguiente imagen corresponde a (señalar la correcta):



- a) Coto de caza menor
- b) Zona de reserva.
- c) Coto deportivo
- d) Zona de caza intensiva.

27.- La siguiente escena de caza se corresponde con la modalidad (señalar la correcta):



- a) Mano por mano
- b) A toro suelto
- c) Altanería
- d) Empuesta



28.- En altanería, orientamos el halcón pico a viento (señalar la correcta):



- a) Siempre se orienta con viento a favor, en cola
- b) Para que el ave esté cómoda y salga en contra del viento lo que ayuda a ganar altura
- c) Da igual la dirección del viento
- d) En esos momentos y al alzar el puño, nunca defecan

29.- El Águila de Harris (señalar la correcta):



- a) No es un ave cetrera.
- b) Es un ave de bajo vuelo.
- c) Es un ave de alto vuelo.
- d) Ninguna de las anteriores.

30.- El buen halcón altanero gana altura batiendo alas sin planear (señalar la correcta):



- a) El buen halcón vuela con la ayuda de las térmicas
- b) Aunque vuelen con térmicas, el halcón no se hace vago
- c) No tiene importancia las térmicas y no afecta a los halcones
- d) Se debe practicar altanería cuando las térmicas sean escasas o nulas