



EXAMEN DE APTITUD PARA LA OBTENCIÓN DE LA LICENCIA DE CAZA EN LA REGIÓN DE MURCIA (C1)

Fecha: 11/9/2019

EJERCICIO PRÁCTICO: La evaluación de la parte práctica consta de un examen tipo test de 30 preguntas con cuatro respuestas alternativas en las que solo una es la verdadera, y teniendo en cuenta que por cada tres preguntas mal se descuenta 1 bien. Se dispondrá de un máximo de 60 minutos.

1.- ¿Cuál es la siguiente especie cinegética? (señalar la correcta):



- a) Corneja
- b) Arrendajo
- c) Urraca
- d) Grajilla

2.- La siguiente imagen corresponde a (señalar la correcta):



- a) Especie no cinegética: cernícalo primilla.
- b) Especie no cinegética: águila perdicera.
- c) Especie no cinegética: aguilucho cenizo.
- d) Especie cinegética: paloma torcaz

3.- Dentro de las especies amenazadas en la Región de Murcia, la siguiente imagen corresponde a (señalar la correcta):



- a) Alcaraván.
- b) Charrancito.
- c) Ganga ortega
- d) Sisón.

4.- Dentro de las especies cinegéticas de caza menor en la Región de Murcia, la siguiente imagen corresponde a (señalar la correcta):



- a) Paloma torcaz.
- b) Paloma bravía.
- c) Paloma zurita.
- d) Tórtola europea

5.- La siguiente especie es (señalar la correcta):



- a) Cinegética: grajilla
- b) No cinegética: carraca europea
- c) Cinegética: urraca
- d) No cinegética: arrendajo

6.- Dentro de las especies cinegéticas de caza mayor, la siguiente imagen corresponde a (señalar la correcta):



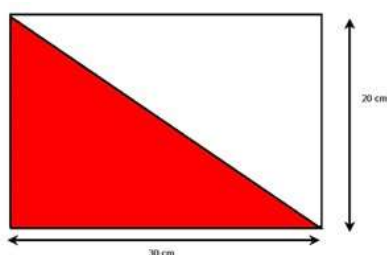
- a) Corzo
- b) Muflón
- c) Cabra montés
- d) Arrui

7.- Dentro del grupo de enfermedades que habría que comunicar, la siguiente imagen corresponde a (señalar la correcta):



- a) Triquinosis en arrui
- b) Tularemia en muflón
- c) Mixomatosis de la liebre
- d) NHV del conejo

8.- Dentro de las señales de segundo orden, la siguiente imagen corresponde a (señalar la correcta):



- a) Coto de caza menor
- b) Zona de reserva.
- c) Coto deportivo
- d) Zona de caza intensiva.

9.- Para el control ocasional de predadores se pueden emplear con autorización métodos de captura homologados, la siguiente imagen corresponde a (señalar la correcta):



- a) Lazo propulsado tipo Collarum.
- b) Caja selectiva para gato asilvestrado.
- c) Caja-trampa metálica para urracas.
- d) Wisconsin al paso.

10.- La caja trampa para la captura del zorro es (señalar la correcta):



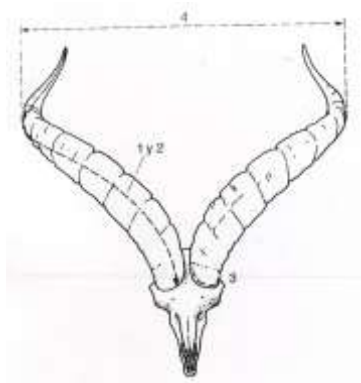
- a) Un método legal para la captura de carnívoros
- b) Un método legal pues se puede soltar si no es un zorro lo que ha caído
- c) Un método no homologado e ilegal
- d) Un método de control de predadores específico para el zorro

11.- Los cepos para la captura de zorros o perros asilvestrados según la Ley 7/2003 de Caza y Pesca Fluvial de la Región de Murcia, es (señalar la correcta):



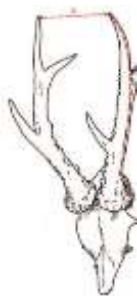
- a) Un método homologado y legal
- b) Un método legal de captura que se puede utilizar con autorización
- c) Un método prohibido
- d) Un método de control de predadores muy selectivo

12.- Las especies cinegéticas objeto de homologación pertenecen a la caza mayor, la siguiente imagen corresponde al trofeo de (señalar la correcta):



- a) Muflón.
- b) Corzo.
- c) Rebeco.
- d) Cabra montés.

13.- Las especies cinegéticas objeto de homologación pertenecen a la caza mayor, la siguiente imagen corresponde al trofeo de (señalar la correcta):



- a) Muflón.
- b) Corzo.
- c) Rebeco.
- d) Cabra montés.

14.- Indica qué raza de perro es el de la fotografía (señalar la correcta):



- a) Es un pointer
- b) Es un braco
- c) Es un setter
- d) Es un bretón

15.- La siguiente imagen corresponde a (señalar la correcta):



- a) Es un perro de muestra
- b) Es un perro de rastro de sangre.
- c) Es un perro de rastro de acoso y persecución.
- d) Es un perro de rastro vivo.

16.- Según el comportamiento ético del cazador y el correcto uso de las imágenes en las redes sociales (señalar la correcta):



- a) Es correcto presumir de los animales cazados
- b) No hay ningún problema ético por matar los animales y no aprovechar su carne
- c) Es correcto hacerse fotos con los animales abatidos y poner la pata encima como muestra de superioridad.
- d) Siempre hay que tener respeto hacia los animales abatidos y se debe de aprovechar su carne.

17.- En la siguiente imagen aparece una especie cinegética según la Orden de 29 de abril de 2019, de la Consejería de Empleo, Universidades, Empresa y Medio Ambiente sobre periodos hábiles de caza para la temporada 2019/2020 en la Comunidad Autónoma de la Región de Murcia (señala la correcta):



- a) Paloma bravía.
- b) Tórtola europea
- c) Zorzal blanco
- d) No es especie cinegética

18.- Las redes se pueden utilizar según la Ley 7/2003 de Caza y Pesca Fluvial de la Región de Murcia (señalar la correcta):



- a) La utilización de las redes se puede hacer con la licencia G
- b) Las redes verticales, se pueden utilizar sin ninguna prohibición para la captura de perdices.
- c) Las redes verticales es un método de captura prohibido para la caza
- d) Es una actividad autorizada pues permite soltar las especies que no aprovechamos.

19.- Respecto al alcahaz (señalar la correcta):



- a) Las aves sin caperuza viajan mejor en un alcahaz. Ha de ser espacioso, oscuro, con ventilación y fácil de limpiar. Cuidaremos el perfecto estado de sus plumas empleando protectores de cola.
- b) Nunca se ponen protectores de cola dentro del alcahaz
- c) En el alcahaz hay que llevarlos con caperuza
- d) Debe estar muy iluminado

20.- La siguiente escena de caza se corresponde con la modalidad (señalar la correcta):



- a) Mano por mano
- b) A toro suelto
- c) Altanería
- d) Empuesta

21.- En altanería, orientamos el halcón pico a viento (señalar la correcta):



- a) Siempre se orienta con viento a favor, en cola
- b) Para que el ave esté cómoda y salga en contra del viento lo que ayuda a ganar altura
- c) Da igual la dirección del viento
- d) En esos momentos y al alzar el puño, nunca defecan

22.- En base a la Orden 8 abril 1987 (Consejería de Agricultura, Ganadería y Pesca). Caza. Regularización, legalización, y tenencia de aves rapaces destinadas a la cetrería (señalar la correcta):



- a) El documento de Registro en la Dirección General de Medio Natural no es necesario
- b) Solo es necesario el documento de registro, cuando se va a practicar cetrería con el ave.
- c) Tienen que tenerlos todas las aves rapaces que están en cautividad
- d) El documento de Registro, lo emite el ORNIS

23.- El buen halcón altanero gana altura batiendo alas sin planear (señalar la correcta):



- a) El buen halcón vuela con la ayuda de las térmicas
- b) Aunque vuelen con térmicas, el halcón no se hace vago
- c) No tiene importancia las térmicas y no afecta a los halcones
- d) Se debe practicar altanería cuando las térmicas sean escasas o nulas

24.- El certificado de cría en cautividad en base al Reglamento (CE) 338/97 y el 865/2006 (señalar la correcta):



- a) Lo emite el SOIVRE y contiene el número de anilla
- b) Lo emite la Dirección General de Medio Natural
- c) Lo emite el Ministerio de Defensa
- d) Lo emite el SOIVRE y no viene el número de anilla

25.- El Águila de Harris (señalar la correcta):



- a) No es un ave cetrera.
- b) Es un ave de bajo vuelo.
- c) Es un ave de alto vuelo.
- d) Ninguna de las anteriores.

26.- El Halcón Gerifalte (señalar la correcta):



- a) Tiene un fácil adiestramiento
- b) Buenos cazadores de mano por mano
- c) Especie autóctona que se puede hibridar en caso de escape
- d) Complicado adiestramiento, alto precio y difícil mantenimiento

27.- ¿Cuál es la siguiente especie? (señalar la correcta):



- a) Azor
- b) Halcón de Borni
- c) Esmerejón
- d) Gavilán

28.- Las hembras empleadas en cetrería son en líneas generales (señalar la correcta):



- a) Más grandes que los machos
- b) Más pequeñas que los machos
- c) Tienen más garras que los machos
- d) Da igual que sean macho o hembra pues podemos cazar las mismas presas

29. La siguiente imagen, se puede corresponder con un azor hembra (señalar la correcta):



- a) Podría ser un búho macho o hembra, ya que ambos tienen las mismas capacidades en la caza
- b) No, una hembra de azor no puede sujetar a una liebre porque tiene pelo
- c) No. La rapaz de la imagen es un ratonero
- d) Si, ya que al azor macho le es más difícil cazar una liebre mientras que al ser más ágil puede cazar más fácilmente una perdiz

30.- En la siguiente imagen aparece un (señalar la correcta):



- a) Halcón sacre (*Falco cherrug*)
- b) Cernícalo gerifalte(*Falco tinnunculus*)
- c) Gavilán europeo (*Accipiter nisus*)
- d) Halcón peregrino (*Falco peregrinus*)